

Pro termín 14. - 23. října 2020

Jméno a příjmení:


Měření délky



Zapiš měřidla délky, která máš doma.



Změř velikost tohoto obdélníku.

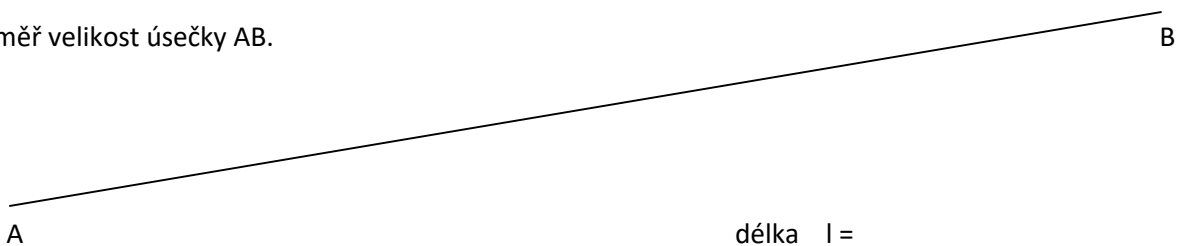


délka $l =$

výška $l =$



Změř velikost úsečky AB.




délka $l =$



Kterým měřidlem by se nejlépe měřil obvod pasu pro kalhoty?

5

Co je na obrázku?



a) b) c)

6

Nakresli svůj pokoj (pokoj ve kterém spíš) a zapiš délky.

délka l =

šířka l =

výška l =

7

Proč není kružítka měřidlem délky?

8

Zapiš kolik měříš.