

Pro termín 9. - 13. listopadu 2020

Jméno a příjmení: .....

## Měření délky



Zapiš měřidla délky, která máš doma.



Změř velikost tohoto obdélníku.

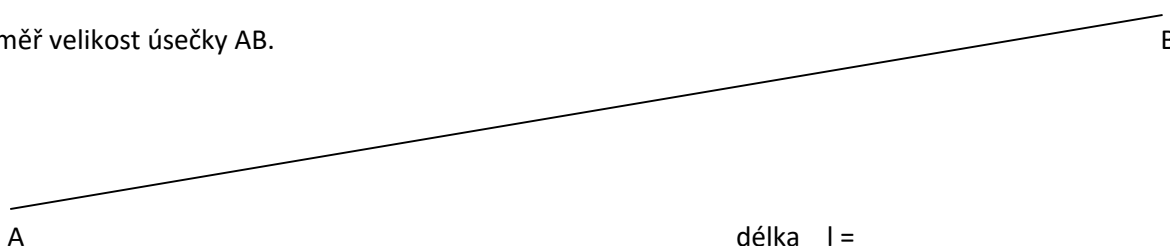


délka  $l =$

výška  $l =$





Změř velikost úsečky AB.



Kterým měřidlem by se nejlépe měřil obvod pasu pro kalhoty?

5

Co je na obrázku?



a) ..... b) ..... c) .....

6

Nakresli svůj pokoj (pokoj ve kterém spíš) a zapiš délky.

délka l =

šířka l =

výška l =

7

Proč není kružítko měřidlem délky?

8

Zapiš kolik měříš.