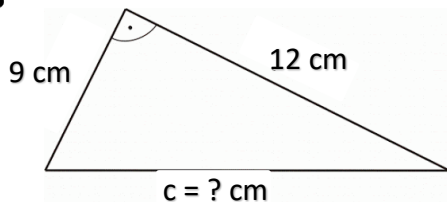


Pro termín 30. listopadu – 4. prosince 2020

Jméno a příjmení:

Pythagorova věta – opakování 2

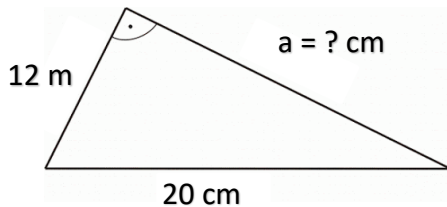
nápověda: minulé tři listy, k výpočtu můžeš používat kalkulačku



a =

b =

c = ? cm



b =

c =

a = ? cm

POZOR: při výpočtu musí být všechny strany ve stejných jednotkách!



Převod:

8 dm = cm

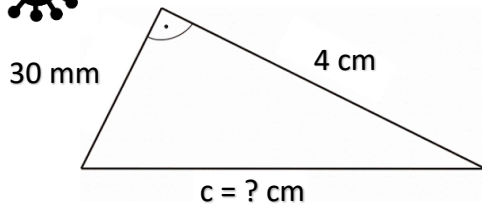
250 cm = dm

0,4 m = cm

3500 cm = m



POZOR: při výpočtu musí být všechny strany ve stejných jednotkách!



$$a =$$

$$b =$$

$$c = ? \text{ cm}$$



Délka přepony pravoúhlého trojúhelníka ABC je $c = 250 \text{ mm}$ a délky odvěsny $a = 2 \text{ dm}$. Jaká je délka odvěsny b ?



$\triangle ABC$

$$a = 6 \text{ dm}$$

$$b = 0,8 \text{ mm}$$

$$c = ? \text{ dm}$$