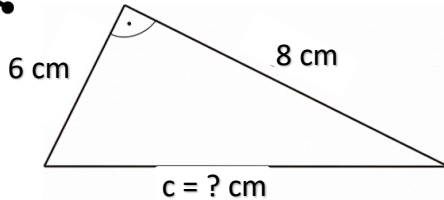


Pro termín 23. - 27. listopadu 2020

Jméno a příjmení:

Pythagorova věta – opakování

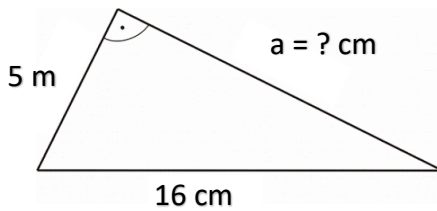
nápověda: minulé dva listy, k výpočtu můžeš používat kalkulačku



a =

b =

c = ? cm



b =

c =

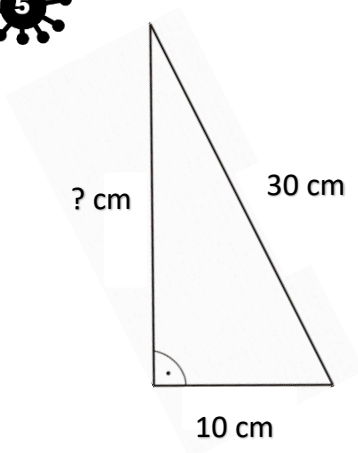
a = ? cm



Délky odvěsen pravoúhlého trojúhelníka ABC jsou $a = 2$ m a $b = 9$ m. Vypočítej délku přepony c .



Délka přepony pravoúhlého trojúhelníka ABC je $c = 8$ km a délky odvěsny $b = 4$ km. Jaká je délka odvěsny a ?



$\triangle ABC$

$a = 14$ cm

$b = 15$ cm

$b = ?$ dm